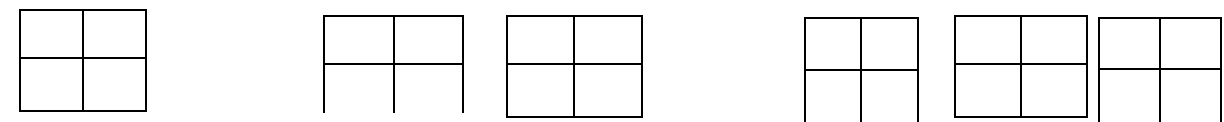
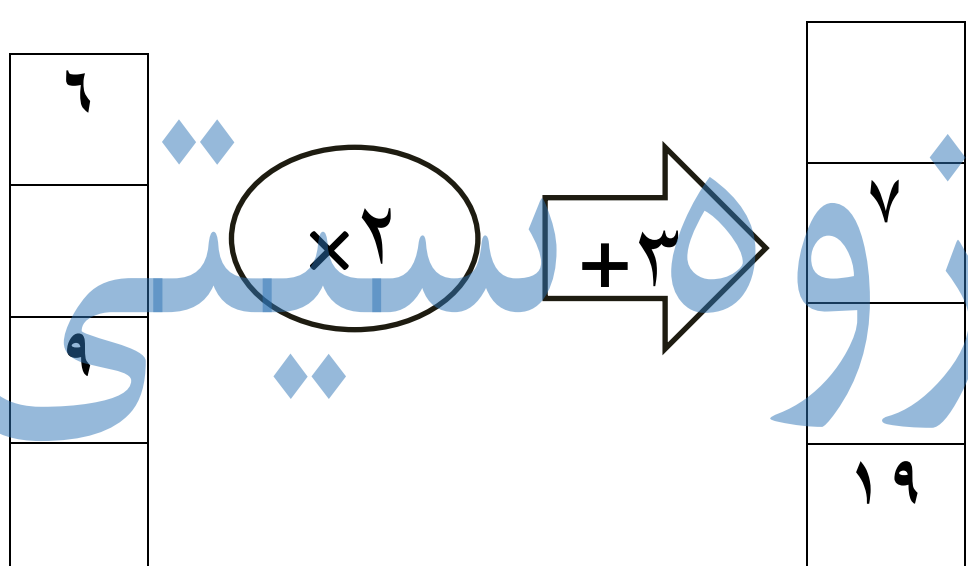


تاریخ آزمون: ۱۴۰۱/۰۱/۲۹ تعداد صفحه: ۲ صفحه آموزگار: خانم بندری	به نام خدا اداره آموزش و پرورش شهرستان دیلم دبستان غیر انتفاعی سرای دانش واحد پسرانه	آزمون: ریاضی فصل ۷ و ۱ نام: _____ نام خانوادگی: _____ کلاس: چهارم ابتدایی
--	--	--

سوالات

ردیف	۱	<p>باتوجه به عدد روبه رو به سوالات زیر پاسخ دهید؟ <u>۴۹۰۸۷۳۶۵۲</u></p> <p>الف- این عدد را به حروف بنویسید.</p> <p>ب) این عدد چند رقمی است؟</p> <p>ج) کوچکترین ارزش مکانی کدام رقم است؟</p> <p>د) در این عدد چند طبقه می بینید؟</p> <p>ه) بزرگترین رقم در کدام ارزش مکانی است؟</p> <p>و) در بیشترین مرتبه چه رقمی دارد؟</p> <p>ی) در جدول ارزش مکانی قرار دهید.</p>																		
		<table border="1" style="margin: auto;"> <tr> <td style="width: 20px; height: 20px;"></td> <td style="width: 20px; height: 20px;"></td> <td style="width: 20px; height: 20px;"></td> <td style="width: 20px; height: 20px;"></td> <td style="width: 20px; height: 20px;"></td> <td style="width: 20px; height: 20px;"></td> <td style="width: 20px; height: 20px;"></td> <td style="width: 20px; height: 20px;"></td> <td style="width: 20px; height: 20px;"></td> </tr> <tr> <td style="width: 20px; height: 20px;"></td> <td style="width: 20px; height: 20px;"></td> <td style="width: 20px; height: 20px;"></td> <td style="width: 20px; height: 20px;"></td> <td style="width: 20px; height: 20px;"></td> <td style="width: 20px; height: 20px;"></td> <td style="width: 20px; height: 20px;"></td> <td style="width: 20px; height: 20px;"></td> <td style="width: 20px; height: 20px;"></td> </tr> </table>																		

۲	<p>الگوهای زیر را ادامه دهید.</p> <p>۸۶/۷۶/۶۶/...../...../...../.....</p> <p>۱/۴/۹/...../...../...../.....</p> <p>۴۸ / ۲۴ / ۱۲ /...../.....</p> <p>در الگوی زیر شکل <u>۳۴</u> از چند مربع تشکیل شده است.</p>
	
	۳۴

۳	<p>ماشین ورودی و خروجی زیر را کامل کنید.</p>
	

۴	<p>عددهای زیر را باهم مقایسه کنید.</p> <p>۱۳۵۸۱۳۶۹ <input type="checkbox"/> ۱۳۵۵۱۳۶۰</p> <p>۳۷۵۸۹۱ <input type="checkbox"/> ۳۷۵۸۱۹</p> <p>۹۹۹۹+۱ <input type="checkbox"/> ۱۰۰۰۰</p> <p>۹۰۹۹۹ <input type="checkbox"/> ۹۰۹۰۹۹</p>
---	--

تساوی های زیر را کامل کنید.

$$۲۳۹۷۰۵۶ =$$

$$۹۰۰۰۰۰ + ۳۰۰۰۰۰ + ۴۰۰۰۰ + ۲۰۰۰ + ۶۰ + ۱ =$$


قیمت هر گرم طلای ۱۸ عیار در ۵ ماه اول سال ۱۳۹۴ به صورت زیر می باشد.

ماه	۱	۲	۳	۴	۵
قیمت (تومان)	۶۹۰۰۰	۷۴۰۰۰	۶۵۰۰۰	۸۰۰۰۰	۹۵۰۰۰

الف) نمودار خط شکسته ی آن را رسم کنید.

ب) در بین کدام ماه ها تغییرات قیمت طلا از همه بیشتر بوده است؟

ج) در این نمودار معنی \nearrow چیست؟



در یک کیسه ۱۲ مهره سبز، ۶ مهره زرد است. اگر بدون نگاه کردن از داخل کیسه مهره ای از آن بیرون آوریم: با توجه به کیسه احتمال هر مورد را بایک عبارت مناسب بیان کنید.

الف) احتمال بیرون آمدن رنگ سبز:

ب) احتمال بیرون آمدن رنگ سیاه؟

ج) احتمال بیرون آمدن رنگ زرد:

احتمال بیرون آمدن رنگ سبز و زرد:

موفق و سربلند باشید